

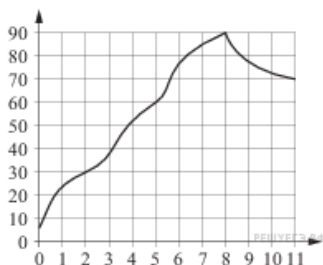
Вариант № 12757702

1. На одну порцию рисовой каши требуется 40 грамм риса и 0,12 литра молока. Какое наибольшее количество порций каши может приготовить столовая, если в ее распоряжении есть 900 грамм риса и 3 литра молока?

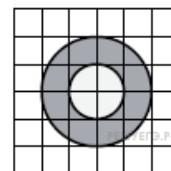
2.

На графике показан процесс разогрева двигателя легкового автомобиля. На оси абсцисс откладывается время в минутах, прошедшее от запуска двигателя, на оси ординат — температура двигателя в градусах Цельсия.

Определите по графику, на сколько градусов нагреется двигатель со второй по восьмую минуту разогрева.



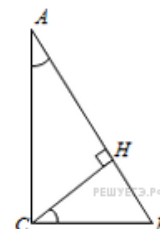
3. На клетчатой бумаге нарисованы два круга. Площадь внутреннего круга равна 34. Найдите площадь закрашенной фигуры.



4. Конкурс исполнителей проводится в 4 дня. Всего заявлено 60 выступлений — по одному от каждой страны, участвующей в конкурсе. Исполнитель из России участвует в конкурсе. В первый день 24 выступления, остальные распределены поровну между оставшимися днями. Порядок выступлений определяется жеребьевкой. Какова вероятность, что выступление представителя России состоится в третий день конкурса?

5. Найдите корень уравнения $\sqrt{13+2x} = 5$.

6. В треугольнике ABC угол C равен 90° , CH — высота, $BH = 12$, $\sin A = \frac{2}{3}$. Найдите AB .



7. Материальная точка движется прямолинейно по закону $x(t) = t^2 - 13t + 23$ (где x — расстояние от точки отсчета в метрах, t — время в секундах, измеренное с начала движения). В какой момент времени (в секундах) ее скорость была равна 3 м/с?

8. Найдите объем многогранника, вершинами которого являются точки A, B, A_1, D_1 прямоугольного параллелепипеда $ABCD A_1 B_1 C_1 D_1$, у которого $AB = 3$, $AD = 3$, $AA_1 = 6$.

9.

Найдите значение выражения $\frac{g(x+2)}{g(x)}$, если $g(x) = 15^x$.

10.

Расстояние от наблюдателя, находящегося на высоте h м над землей, выраженное в километрах, до наблюдаемой им линии горизонта вычисляется по формуле $l = \sqrt{\frac{Rh}{500}}$, где $R = 6400$ км — радиус Земли. Человек, стоящий на пляже, видит горизонт на расстоянии 4 км. На сколько метров нужно подняться человеку, чтобы расстояние до горизонта увеличилось до 48 километров?

11. Один мастер может выполнить заказ за 6 часов, а другой — за 3 часа. За сколько часов выполнят заказ оба мастера, работая вместе?

12.

Найдите наименьшее значение функции $y = 7^{x^2+2x+3}$.

13. а) Решите уравнение $\frac{5 \cos x + 4}{4 \operatorname{tg} x - 3} = 0$.

б) Найдите все корни этого уравнения, принадлежащие отрезку $\left[-4\pi, -\frac{5\pi}{2}\right]$.

14. В правильной треугольной пирамиде $SABC$ с основанием ABC угол ASB равен 36° . На ребре SC взята точка M так, что AM — биссектриса угла SAC . Площадь сечения пирамиды, проходящего через точки A , M и B , равна $5\sqrt{3}$. Найдите сторону основания.

15. Решите неравенство: $3|x+1| + \frac{1}{2}|x-2| - \frac{3}{2}x \leq 8$.

16. На прямой, содержащей медиану AD прямоугольного треугольника ABC с прямым углом C , взята точка E , удаленная от вершины A на расстояние, равное 4. Найдите площадь треугольника BCE , если $BC=6$, $AC=4$.

17. Планируется выдать льготный кредит на целое число миллионов рублей на пять лет. В середине каждого года действия кредита долг заёмщика возрастает на 20 % по сравнению с началом года. В конце 1-го, 2-го и 3-го годов заёмщик выплачивает только проценты по кредиту, оставляя долг неизменно равным первоначальному. В конце 4-го и 5-го годов заёмщик выплачивает одинаковые суммы, погашая весь долг полностью. Найдите наименьший размер кредита, при котором общая сумма выплат заёмщика превысит 10 млн.

18. Найдите все значения a , при каждом из которых система уравнений

$$\begin{cases} \frac{xy^2 - 2xy - 4y + 8}{\sqrt{x+4}} = 0, \\ y = ax \end{cases}$$

имеет ровно два различных решения.

19. Найдите все простые числа p , для каждого из которых существует такое целое число k , что число p является общим делителем чисел $k^4 + 4k^2 + 4$ и $k^3 + 3k$.